

2012年《行政职业能力测验》

模拟题

注意事项

1. 本测验共有五个部分，共 **130** 道题，总时限为 **120** 分钟。各部分不分别计时，但都给出了参考时限，供答题时参考。
2. 请在题本、答题卡指定位置上用黑色字迹的钢笔签字笔填写自己的姓名和准考证号，并用 **2B** 铅笔在准考证号对应的数字上填涂。
3. 请将题本上的条形码揭下，贴在答题卡指定位置。没有贴条形码的答题卡将按废卡处理，成绩计为零分。
4. 题目应在答题卡上作答，在题本上作答的一律无效。
5. 待监考老师宣布考试开始后，你才可以开始答题。
6. 监考老师宣布考试结束时，你应立即停止作答，将题本、答案卡和草稿纸都翻过来放在桌上，待监考老师确认数量无误、发出离开指令后，方可离开考场。
7. 试题答错不倒扣分。
8. 严禁折叠答题卡！

※※※※※※※※※※※※※※※※※※※※※※※※※※※※※※

停！请不要往下翻！听候监考老师的指示。

※

否则，会影响你的成绩

※

※※※※※※※※※※※※※※※※※※※※※※※※※※※※※※

第一部分 常识判断

(共 20 题, 参考时限 15 分钟)

根据题目要求, 在四个选项中选出一个正确答案。

请开始答题:

1. 中国共产党第十七届中央委员会第六次全体会议于 2011 年 10 月 15 日至 18 日在北京举行。全会强调, 坚持中国特色社会主义文化发展道路, 深化文化体制改革, 推动社会主义文化大发展大繁荣, 必须以 () 为主题, 以 () 为根本任务, 以 () 为出发点和落脚点, 以 () 为动力, 发展面向现代化、面向世界、面向未来的, 民族的科学的大众的社会主义文化, 培养高度的文化自觉和文化自信, 提高全民族文明素质, 增强国家文化软实力, 弘扬中华文化, 努力建设社会主义文化强国。

①文化复兴

②科学发展

③建设社会主义核心价值体系

④满足人民精神文化需求

⑤改革创新

A.①③④⑤

B.①②③④

C.②③④⑤

D.①②④⑤

2. 《国家中长期教育改革和发展规划纲要》提出了“到 2020 年, 基本实现教育现代化, 基本形成学习型社会, 进入 () 行列”的战略目标。

A.人力资源大国

B.人力资源强国

C.人才资源强国

D.人才资源大国

3. 2012 年伦敦奥运会是继 2008 年北京奥运会之后的第三十届夏季奥林匹克运动会, 本次奥运会的口号是 ()。

A.同一个世界, 同一个梦想

B.拥抱四方朋友

C.城市, 让生活更美好

D.欢迎回家

4. 某地区的招商引资办公室主任刘某, 对于前来投资的“外商”甲某等人盲目轻信, 未认真审查其资金状况、信用情况等, 就签订了引资合作协议, 由该地区财政处先期打入对方账户 200 万元, 结果, 打入的资金被悉数骗走, 给国家造成了严重损失, 刘某的行为已经造成了 ()。

A.玩忽职守罪

B.滥用职权罪

C.国家工作人员签订、履行合同失职被骗罪

D.尚未构成犯罪

5. 关于行政法规, 下列哪一选项是正确的 ()。

A.行政法规可以设定行政拘留处罚

B.行政法规对法律设定的行政许可作出具体规定时可以增设行政许可

C.行政法规的决定程序依照国务院组织法的有关规定办理

D.行政法规之间对同一事项的新的—般规定与旧的特别规定不一致，不能确定如何适用时，由国务院法制办裁决

6. 甲与乙签订了一祖传玉镯的买卖合同，约定如果七夕节不下雨，则甲将该玉镯卖给乙。该合同属于（ ）。

A.附延缓条件的合同

B.附解除条件的合同

C.附始期的合同

D.附终期的合同

7. 下列关于我国公民的监督权的表述，错误的是（ ）。

A.对于任何国家机关和国家工作人员的违法失职行为，有提出批评和建议的权利

B.对于任何国家机关和国家工作人员的违法失职行为，有向有关国家机关提出申诉、控告或者检举的权利，但是不得捏造或者歪曲事实进行诬告陷害

C.对于公民的申诉、控告或者检举，有关国家机关必须查清事实，负责处理。任何人不得压制和打击报复。

D.由于国家机关和国家工作人员侵犯公民权利而受到损失的人，有依照法律规定取得赔偿的权利

8. 按照《国家行政机关公文格式》的规定，公文密级的标注位置应当在文件眉首部分的（ ）。

A.左上角

B.右上角

C.发文字号左侧

D.发文字号右侧

9. 文艺复兴是14—16世纪反映西欧各国正在形成中的资产阶级要求的思想、文化运动。其主要中心最初在意大利。被称为“文学三杰”的人物是（ ）。

A.但丁、彼特拉克、薄伽丘

B.拉斐尔、米开朗基罗、薄伽丘

C.但丁、彼特拉克、拉斐尔

D.塞万提斯、果戈理、但丁

10. 下列对中国古代文学的描述**错误**的一项是（ ）。

A.唐代出现了很多的伟大诗人，像李白、杜甫、白居易、刘禹锡、李商隐等

B.初唐四杰是卢照邻、骆宾王、王勃、杨炯

C.“晓看红湿处，花重锦官城”出自白居易的五律《春夜喜雨》

D.《尚书》是中国最早的一部历史文献总集，相传曾经由孔子编选

11. 均田制是中国古代重要的土地制度，推行该制度的朝代有（ ）。

①西周 ②北魏 ③唐朝 ④明朝

A.①②

B.②③

C.①④

D.③④

12. 我国的舟山渔场每年都有一段时间的“休渔期”，其主要原因是（ ）。
- A. 鱼类每年有一个集中的产卵期
 - B. 舟山渔场附近海域污染越来越严重，以致鱼量越来越少
 - C. 那段时期沿海地区台风活动频繁，为渔民安全考虑，因此不让他们出海捕鱼
 - D. 舟山因捕鱼过量，致使目前已无鱼可捕
13. 下列关于经济常识的说法，不正确的是（ ）。
- A. 社会必要劳动时间决定商品的价值量
 - B. 商品的价值是指商品能够满足人们某种需要的属性
 - C. 国家宏观调控的目标是促进经济增长、稳定物价、平衡国际收支、增加就业
 - D. 经济衰退时适用扩张型的财政政策
14. 下列关于生产者物价指数（PPI）和消费者物价指数（CPI）的说法，正确的是（ ）。
- A. 我国 CPI 的统计范围包括食物、交通通讯、居民购房消费等八大类
 - B. 当 PPI 指数增幅很大而且持续加速上升时，该国央行应该采取减息对策
 - C. 消费者物价指数（CPI）是一个滞后性数据
 - D. PPI 反映生产环节价格水平，CPI 反映消费环节的价格水平，因此，根据价格传导规律，CPI 不会对 PPI 产生的影响
15. “一个中心，两个基本点”是党的基本路线的核心内容，其是指（ ）。
- A. 以经济建设为中心，坚持社会主义道路，坚持人民民主专政
 - B. 以政治建设为中心，坚持中国共产党的领导，坚持马列主义、毛泽东思想
 - C. 以法治建设为中心，坚持中国特色社会主义道路，坚持民族政策
 - D. 以经济建设为中心，坚持四项基本原则，坚持改革开放
16. 土地革命战争时期，打响了武装反抗国民党反动派的第一枪，揭开了中国共产党独立领导武装斗争和创建革命军队的序幕的是（ ）。
- A. 秋收起义
 - B. 广州起义
 - C. 武昌起义
 - D. 八一南昌起义
17. 下列成语中的化学知识，说法不正确的是（ ）。
- A. “信口雌黄”中的“雌黄”是三硫化二砷，古人用“雌黄”加水的混合物涂改文字
 - B. “饮鸩止渴”中的“鸩”是指放了砒霜的毒酒，砒霜是三氧化二砷的俗称
 - C. “甘之如饴”中的“饴”是葡萄糖，通过风干的麦芽或谷物发酵酿造
 - D. “水滴石穿”中的“水”含有二氧化碳，使“水”呈酸性，滴在主要由碳酸钙组成的岩石上，使碳酸钙溶解在水中
18. 黄曲霉毒素对人体危害巨大，下列食品中最易霉变产生黄曲霉毒素的是（ ）。

A.西红柿

B.土豆

C.花生

D.猪肉

19. 下列选项说法错误的一项是（ ）。

A.行星距离太阳近的时候运转速度慢

B.哈雷彗星的最早记录是中国人留下的

C.太阳系中卫星最多的行星是土星

D.月亮总是同一面朝着地球

20. 下列关于生活常识的说法，正确的是（ ）。

A.冬天戴着眼镜从温度较低的室外走到室内，眼睛上会有一层白雾，这是气体的凝华现象

B.烧水或煮食物时喷出的水蒸气比热水或热汤烫伤更严重

C.用高压锅煮食物比较快是因为锅内气压增大，降低了水的沸点，水比较容易沸腾

D.往保温瓶灌开水时，水灌得越多越有利于保温

※※※ 第一部分结束，请继续做第二部分！ ※※※

第二部分 言语理解与表达

(共 40 题, 参考时限 35 分钟)

本部分包括表达与理解两方面的内容。请根据题目要求, 在四个选项中选出一个最恰当的答案。

请开始答题:

21. 对于近日美国股市动荡不已, 美国湾区华裔理财专家林修荣指出, 这反映出美国的经济正处于一个危机中, 奥巴马政府_____, 发展方向错误, 但执意前行, 因此人们缺乏信心, 未来不乐观。

填入画横线部分最恰当的一项是 ()。

- A. 举棋不定
B. 一筹莫展
C. 束手待毙
D. 无所适从

22. 美国已经在或明或暗的向中国举起核武器试探的大棒。_____, 未必无因。美国这次出人意料的炒作核武器的使用情况, 其根源也是试探和验证中国到底在核问题上是什么态度。

填入画横线部分最恰当的一项是 ()。

- A. 空穴来风
B. 捕风捉影
C. 道听途说
D. 无中生有

23. 一个庞大的仿古建筑群在原陈行地区悄然_____。“召稼楼古镇”挤进了古镇旅游的行列, “城隍故里”则成了召稼楼的独家亮点; 在通往古镇的路边, 特树木牌一块, _____介绍上海城隍老爷秦裕伯。

填入画横线部分最恰当的一项是 ()。

- A. 建立 专门
B. 建成 专题
C. 建成 单独
D. 建立 主要

24. 每一次在_____的城市里梦回故园, 总让我心驰神往。但是每一次真正回到故乡, 却总是遗失了家园, 我的胸中激荡着故乡与城市的冲突, 农业文明与工业社会的_____。

填入画横线部分最恰当的一项是 ()。

- A. 孤独 抗挣
B. 孤寂 交织
C. 孤寂 交汇
D. 孤独 挣扎

25. 上世纪 80 年代, 社会学家、科学家和法学家们纷纷关注经济话题, 为启航的改革开放保驾护航, 为萌动的市场经济_____, 为老百姓的衣食住行_____。他们居庙堂之高, 又能行江湖之远。不仅是因为他们身为国家智囊, 更是缘于他们一直用良心说话。

填入画横线部分最恰当的一项是 ()。

A. 摇旗呐喊 殚精竭虑

B. 擂鼓助威 寝食难安

C. 呐喊助威 处心积虑

D. 旁征博引 千方百计

26. 经济学家、金融学教授许小年评论说，当前的市场动荡和经济恶化只表明一个事实：世界仍处于2008年的危机之中。目前的情况是“西方经济的_____”，美国从来没有_____过。

填入画横线部分最恰当的一项是（ ）。

A. 穷形尽相 复苏

B. 丑态毕露 成功

C. 万劫不复 恢复

D. 原形毕露 苏醒

27. 山水田园诗派是我国古诗历史上一个非常重要的_____。其风格恬淡风雅，字字清澈，句句尚真。诗歌作者往往为隐居人士，淡泊名利，崇尚自然，深受道家思想的影响。要领略我国古诗的_____意境，山水田园诗绝对是不可忽略的一环。

填入画横线部分最恰当的一项是（ ）。

A. 群体 深邃

B. 集体 深奥

C. 流派 艰涩

D. 派别 艰难

28. 民主有_____，民主过头了固然危害很大，但经过几百年的实践，人类早已经解决了这个问题，即用共和、用法治来约束民主，_____民主，平衡民主，让民主没办法过头。这机制是现成的，仿佛一部精密的机器，中国人要学并不难。

填入画横线部分最恰当的一项是（ ）。

A. 缺点 规定

B. 缺陷 规范

C. 缺点 制约

D. 缺陷 协调

29. 接受规则或程序约束的质疑，才是文明的质疑，质疑本身才有_____。而脱离了规则或程序的质疑，脱缰野马般恣意狂奔的质疑，那不是文明的质疑，那本身就是野蛮。我们的时代还无力彻底消灭野蛮，但我们自己，至少可以远离野蛮。否则，整个社会要重返野蛮，走到人与人之间随意_____，走到胡适所说的猜疑、冷酷与不容忍的地步，真的不是很难。

填入画横线部分最恰当的一项是（ ）。

A. 尊严 构陷

B. 面子 污蔑

C. 重量 敷衍

D. 质量 玷污

30. 会见结束时，何厚铨说，很高兴能去观看今晚的“唱读讲传”晚会，前些天在香港的演出大获成功。薄熙来说，一个伟大的民族，必有倍加珍贵的民族精神。人民热爱自己的国家，珍惜优秀的历史文化，就是一个民族_____的内在力量。咱中国人有强烈的爱国心，要把这颗“心”深深_____于民族文化的丰厚土壤之中。“唱读讲传”就是起这个作用。

填入画横线部分最恰当的一项是（ ）。

A. 生生不息 植根

B. 蓬勃向上 扎根

C. 厚积薄发 播种

D. 顽强不息 埋藏

31. 实践总是走在认识前头。随着工业时代商业规则的终结，我们似乎又站在了重写历史的关口：iphone 颠覆了工业产品的制造原理；电子商务_____传统零售行业；在同一桩生意中，我们可能既是生产者又是消费者；_____的新技术新模式扑面而来……如同当时的人们看待蒸汽机所带来的变化，我们已经很难解读这个时代。

填入画横线部分最恰当的一项是（ ）。

- A.席卷 稀奇古怪 B.横扫 千奇百怪
C.涤荡 莫名其妙 D.掠夺 离奇古怪

32. 寄语论述精辟，内涵丰富，篇篇句句_____，情深意切，既包含实现赶超跨越的深刻道理，也道出了领导干部_____政治素养和个人魅力的根本途径。

填入画横线部分最恰当的一项是（ ）。

- A.入木三分 培育 B.入骨三分 培养
C.苦口婆心 提高 D.语重心长 提升

33. 人们常说，市场经济离不开政府的作用，这无疑是正确的。问题是政府应当起什么作用？政府还是应该营造稳定的宏观经济环境。但是，这里常常发生_____：政府不去管住货币发行和稳定物价总水平，而是管个别商品的价格，什么东西一涨价，政府就加以_____。这样，就会破坏市场通过相对价格变化有效配置资源的基本机制。

填入画横线部分最恰当的一项是（ ）。

- A.混淆 管制 B.混乱 管理
C.混杂 治理 D.错位 控制

34. 通过研读文学经典，陶冶_____、增加才情，做到“腹有诗书气自华”；通过研读哲学经典，改进思维、把握_____，增强哲学思考和思辨能力；通过研读伦理经典，知_____、明是非、懂荣辱、辨善恶，培养健全的道德品格。

填入画横线部分最恰当的一项是（ ）。

- A.情操 规律 廉耻 B.性情 真理 廉洁
C.性情 矛盾 耻辱 D.情操 思想 优劣

35. 咸丰六年(1856)之前，慈禧虽能批阅一些简单的奏章，但都不过是代笔，懦弱且_____的咸丰帝允许慈禧在自己的眼皮底下做一些无关紧要的琐事。望着日渐_____的山河，日渐繁重的政务，为了逃避现实，他渐渐沉湎酒色，朝政大事也逐渐被耽误。

填入画横线部分最恰当的一项是（ ）。

- A.昏聩 衰败 B.昏庸 衰亡
C.无能 破碎 D.无才 消亡

36. 安全工作不能_____。要多实地察看，深入基层，查看设备运行状态、现场安全状况、安全学习情况及相关安全措施、程序、手续是否_____等等，做到心中有数，尽在掌握，加强对安全生产工作的熟悉控制。

填入画横线部分最恰当的一项是（ ）。

- A.墨守陈规 完备
B.按部就班 完整
C.改弦更张 完善
D.循序渐进 完好

37. 日本经济的基础曾经是由家电和汽车产业支撑着的双腿巨人，而家电早在十年之前就已经开始失去了支撑日本社会的_____，而现在又轮到日本的汽车产业面对十年前的家电产业曾经面对过的问题了。丰田会不会像日产和本田那样大规模_____日本呢？

填入画横线部分最恰当的一项是（ ）。

- A.功能 撤退
B.作用 逃脱
C.效能 撤出
D.机能 逃离

38. 去年，全球主权债务规模 7.4 万亿，欧洲因主权债务危机的深化闹得_____，可以_____的是，2012 年，“债务危机”依然是关键词。

填入画横线部分最恰当的一项是（ ）。

- A.尽人皆知 肯定
B.满城风雨 预见
C.家喻户晓 预测
D.沸沸扬扬 猜测

39. 大家都记得毛主席经常教导我们的话：“虚心使人进步，骄傲使人落后。”不论对待什么问题，我们都应该_____虚心的态度，力求少犯错误或者不犯错误。特别是有许多学术方面的问题，必然会有各种各样的不同意见，完全应该按照百花齐放、百家争鸣的原则，_____，决不能_____别人接受自己的意见。

填入画横线部分最恰当的一项是（ ）。

- A.采取 各抒己见 强迫
B.采纳 各执一词 强行
C.采用 畅所欲言 迫使
D.择取 随心所欲 逼迫

40. 十一黄金周将至，众商家_____备战“国庆大餐”。近日，记者走访了我市多家商场、卖场、超市、婚纱影楼等看到，不少商家已准备好“国庆大餐”，随时应对国庆销售_____。

填入画横线部分最恰当的一项是（ ）。

- A.跃跃欲试 巅峰
B.踌躇满志 高潮
C.胸有成竹 浪潮
D.摩拳擦掌 高峰

41. 夏威夷群岛，这个火山作用频繁的热点，虽然整体面积和北京市差不多，却汇聚了全世界最丰富多彩的海滩类型。位于大岛的普纳鲁乌海滩，是一片罕见的黑色沙滩。火山作用喷发的熔岩流入海水，迅速冷却并瓦解破碎，在海浪的熏陶下打磨成细粒的黑沙。夏威夷火山作用的熔

岩，几乎都是基性的玄武岩。这种火山岩富含辉石、橄榄石等暗色矿物，也含有一些铁的矿物，如磁铁矿、钛铁矿，因此一般为黑色。

这段文字主要说明了（ ）。

- A. 普纳鲁乌黑色沙滩的成因
- B. 夏威夷火山岩的成分
- C. 玄武岩的主要特点
- D. 夏威夷群岛的海滩类型

42. 图书阅读一直有“有用”与“无用”的关系。有用的阅读在显性层面上主要表现为功利的阅读，比如，专家们的阅读主要是为了专业上的了解和研究，学生的阅读主要是为了学业的完成。而全民阅读，很多时候是“没有用”的阅读。它是一种生活方式的阅读，是想“知道”的阅读。我们传统阅读一直强调学以致用，事实上，更为进步的阅读建议应该是“学以致用”。

根据这段文字，可以看出作者的意图是（ ）。

- A. 说明“有用”阅读与“无用”阅读的关系
- B. 作者事实上鼓励为了“知道”而阅读
- C. 阐明“有用”阅读与“无用”阅读的区别
- D. 作者在文段中强调阅读不应该过于功利

43. 宋朝人最爱簪的花有多种，但最受簪花者喜爱的除去牡丹和芍药，就是月季和玫瑰了。尤其是月季，因它是月月开花，时簪时鲜，所以更受世人的青睐。当时的习俗，凡宫中隆重喜庆活动，除去宫内宫外摆满鲜花外，参与者也都要簪花，就像今天的婚礼、开业大典和奠基仪式贵宾都戴鲜花一样，皆是为了烘托喜庆气氛。南宋周密《武林旧事》记载，在庆贺太上皇帝宋高宗 80 寿诞的御宴上，大臣们按照座次各就各位后，仪仗大臣便捧着装月季、玫瑰的金盘进入宴会大厅，然后开始簪花，“自皇帝以至群臣禁卫吏卒，往来皆簪花。”

根据这段文字，以下说法正确的是（ ）。

- A. 簪花在宋朝时颇为盛行
- B. 宋朝时簪花是身份的象征
- C. 官员簪花由宋朝统治者强令实行
- D. 簪花在封建社会中具有举足轻重的地位

44. 对于缺乏责任心的商品生产企业而言，最具震慑力的威胁来自于消费者，尤其是当消费者和执法机构结盟，非法企业就会极大地畏惧“粗制滥造”。然而，现实是即使自身利益受到问题食品侵害，中国消费者的自我保护意识仍然相对薄弱，甚至对自己是否受害都难以确认，再加上诉讼举证困难等多种因素的影响，消费者很容易迫于无奈，不想惹事而“集体健忘”，而无良企业涉险过关，胆子只会更大，行为会更无所顾忌。

这段文字意在说明（ ）。

- A.消费者对于无良企业最具有震慑力
- B.中国消费者的软弱和健忘会使得无良企业更加肆无忌惮
- C.中国消费者缺乏自我保护意识
- D.自身权益受到侵害时，消费者应该勇于自我保护

45. 实现建筑或者城市的“生态化”、“绿色化”，高科技的应用是根本途径。比如说，如果大量使用透明玻璃，那么对自然光的利用率就会增强，从而降低照明用电。但是，用玻璃代替墙，一方面需要玻璃的强度足够大，否则玻璃易碎的话整个建筑的安全性就无法保证；另一方面，需要玻璃的隔热效果足够好，否则对空调和暖气的需求增加，又会增加能源消耗。同时，生产强度和隔热效果满足要求的玻璃和生产普通的墙体材料相比，生产成本和消耗的资源可能会更高。只有把所有的这些因素综合考虑，并结合建筑的整个使用周期中的能源消耗，才能做出什么样的选择更加“生态”的决定。

对这段文字的主旨概括最准确的是（ ）。

- A.使用玻璃墙时所需要考虑的问题
- B.如何在建筑中较为广泛地应用高科技
- C.生态建筑或者城市“绿色化”的评定标准
- D.在城市建筑中大量使用透明玻璃的利与弊

46. 人类藉人文以流传、创造和鼎新各种价值。文学作为人文明珠，其肌理决定了它作为民族认同的基础和文化基因或精神染色体的功用而存在并不断发展。因此，文学不仅是审美对象，而且是民族文化及其核心价值观的重要载体。这就牵涉到文学与民族之间那难分难解的亲缘关系。正因为如此，第二次世界大战以后，当有人问及邱吉尔莎士比亚和印度孰轻孰重时，他说如果非要他在两者之间作出选择，那么他宁要莎士比亚，不要印度。

对这段文字的主旨概括最准确的是（ ）。

- A.文学作为人文明珠有着非常重要的价值
- B.文学与民族有着难分难解的亲缘关系
- C.丘吉尔要莎士比亚体现出深厚的民族情感
- D.文学更是民族文化及其价值观的重要载体

47. 最近的几项研究表明，气候变化对于文明的兴衰、朝代的更替很可能有着重要的影响。比如，通过对古气候资料和历史记录的分析，香港大学的章典教授等发现：在气候寒冷时期，全球战争次数是温暖时期的两倍。另外，全球超过 80%的国家及地区，寒冷时期的战争比例都比较高。对中国来说，在过去的一千多年里，发生的战争、大范围动乱和朝代更替大都对应着特别漫长的寒冷时期。同样，针对欧洲地区的研究也发现，1550年到1850年的“小冰期”与欧洲历史上发生过的猎巫事件甚至法国大革命之间都有着紧密的关系。

作者列举这些事实意在说明（ ）。

- A.通过研究发现，在世界范围内寒冷的气候可能会引发战争
- B.温暖湿润的气候更适宜人类生产、生活，还可以减少战乱
- C.气候资料和历史记录显示气候变化是社会演变的主要推动力
- D.气候变化尤其是寒冷的气候对社会变迁可能有重要的影响

48. 尽管我国目前的网络阅读人数已经超过了纸质阅读人数，但是人类最伟大的思想还处在离线状态。网络上更容易吸引眼球的是信息、广告和娱乐的内容，人类的理解，特别是人类理性的洞察力，通过网络很难获得，智慧的内容在网络上更是凤毛麟角。对人类思想的进化而言，对个人思想的发展而言，从信息到知识到智慧，就像一个金字塔，它是精神与智力逐步升级发展的过程。唯有通过书籍阅读，我们每一个人的智慧才能一步步地通往精神的“金字塔”之巅。

根据这段文字，可以看出作者的意图是（ ）。

- A.强调人类最伟大的思想是在书籍中
- B.推崇书籍阅读而不是网络阅读
- C.说明书籍阅读与网络阅读的不同
- D.说明人类思想的发展过程

49. 道德从来不能单打独斗，制度的支撑不可或缺。如果法律在关键时刻不能站在良善一边，如果公众一再被暗示“流血又流泪”的行善后果，“带着摄像头才敢做好事”就会成为无奈选择；“行善有风险、出手要谨慎”就会成为冷漠理由。在这个意义上，良好的道德想象，离不开有力的制度呵护，只有制度是向善的，道德才会是向上的。制度固然重要，却不能包治百病。正如法律无法规定必须对陌生人微笑一样，道德的温情不能只靠法律涵养。个体的道德想象，以及由此形成的道德选择，同样决定着我们社会的道德风貌。许多时候，正因为某些机制还不够合理，源自个体的道德努力才显得格外珍贵。

根据这段文字，以下说法正确的是（ ）。

- A.社会的道德风貌往往只需要制度这一不可或缺的支撑
- B.个体的道德努力与制度呵护同样决定着社会的道德风貌
- C.个体的道德努力在很大程度上决定了社会的道德风貌
- D.个体的道德努力比法律制度的完善有时显得更为重要

50. “慈善透明”，不仅依赖慈善组织的自觉，还要从外部建立监督制约机制。而这样的监督制约，不能仅靠政府部门。由于人员编制的限制，政府部门很难对全国成千上万家公益慈善组织展开行之有效的监督；对于与行政体系有着千丝万缕联系的公益慈善组织，政府部门的监督能否秉持独立的立场，公众恐怕也有担忧。

这段文字意在说明（ ）。

- A.政府部门对慈善组织进行监督存在诸多限制
- B.“慈善透明”需要从外部建立监督制约机制

C.对慈善组织的外部监督不能只依靠政府部门

D.政府部门对慈善组织很难进行有效监督

51. 18世纪,法国有一位哲学家名叫丹尼斯狄德罗。一天,朋友送他一件质地精良、做工考究、图案高雅的酒红色睡袍,狄德罗非常喜欢。可他穿着华贵的睡袍在家里寻找感觉时,总觉得家具风格不对,地毯的针脚也粗得吓人。于是他为了与睡袍配套,旧的东西先后被更新。当居室设施终于跟上了睡袍的档次后,他却觉得很不舒服,因为“自己居然被一件睡袍胁迫了”,于是他就把这种感觉写成一篇文章《与旧睡袍别离之后的烦恼》。两百年后,美国哈佛大学经济学家朱丽叶施罗尔在《过度消费的美国人》一书中,把这种现象称为“狄德罗效应”。

根据这段文字,“狄德罗效应”是指()。

A.拥有一件新物品后,还不满足、还会不断配置与其相适应的物品

B.我们所需要的物品,并不是单一的,而是一系列物品的组合

C.图案高雅的酒红色睡袍会迫使我们买很多与之相配套的其他物品

D.人们很重视各种消费品之间的搭配是否和谐和统一,是否匹配

52. 人们熟知的英国普通法,在发展的早期,英国人就似乎天然具有了恪守法律、严格限制王权的传统,并且,保守、改良、谈判、妥协成为了英国人很早发现的一种社会发展模式,也成为了英国人为世界贡献的一种宪政发展模式,一直影响着近代英语世界许多国家的宪政发展。在欧陆文明中,神权与王权、教皇与国王二元并立的状况,使西方人的法治建设在很早的时候便奠定了后来的优良历史传统:分权而不是集权,是西方人法治文明尤其是宪政架构成功的一个重要因素。而权力分权并多元并存这一制度传统,从文明根基上看,则萌芽于西方的文明源头上的宗教因子。

作者列举这些事实意在说明()。

A.人类不同文明的文化源头

B.不同文化法治发展差异的原因

C.法治的发展与文明根基息息相关

D.西方法治发展所经历的种种模式

53. 这是一个讲求效率、追逐利益的时代,这是一个一切都速成速朽的年代。每年的出版数字都在以几何数突飞猛进,出版物越来越洪水般将我们包围,文艺创作呈现出乱花渐欲迷人眼的“繁荣”景象。2009年国产电影片达456部,长篇小说实体书出版达3000余部,2010年国产电影超过526部,长篇小说出版达到4000余部,而真正消费火爆、给人印象深刻的作品不足一成。

这段文字主要说明了()。

A.讲求效率的时代,文艺创作的呈现出一片繁荣的景象

B.追逐利益的时代,文艺创作和消费需求之间严重失衡

C.文艺创作的时代与以往大大不同：讲求效率、追逐利益

D.新时代背景下，各种文艺作品的出版数字逐年增高、刷新

54. 在中国历史上，官和诗的关系一直就很密切。尽管诗歌最早来自于民间，然而从把《诗》列入“五经”之后，它就成了上层社会官宦子弟的必修课，成为官场应对交流的基本功。孔子曰：“不学诗，无以言。”魏晋以下，唐宋元明清，我们知道的大诗人基本都是各级官吏，作诗填词是他们从政为官必须具备的能力，更是他们智慧、素养和文化品位的体现。就拿诗的鼎盛时期唐朝来讲，科举考生为了求得赏识，考前要呈献自己的作品，叫做“行卷”，行卷的内容就包括古诗、律诗、词赋、骈文等。白居易的“野火烧不尽，春风吹又生”就是行卷中的诗句。

这段文字主要说明了（ ）。

- A.古代的诗人大多同时也是一方官吏
- B.作诗是古代的官员必备的素质和能力
- C.历史上诗文化与官文化是息息相关的
- D.古代诗歌的兴起、发展都离不开官吏

55. ①用一块带框的铁板作底托，上面敷一层用松脂、蜡和纸灰混合制成的药剂

②用火烘烤，等药剂稍微熔化，用一块平板把字面压平

③把需要的胶泥活字拣出来一个个排进框内

④把胶泥活字按韵分类放在木格子里，贴上纸条标明

⑤用胶泥做成规格一致的毛坯，在一端刻上反体单字

⑥药剂冷却凝固后，成为版型

将以上 6 个句子重新排列，语序正确的是（ ）。

- A.⑤④①③②⑥
- B.⑤③④①②⑥
- C.④⑤③⑥②①
- D.③④⑤①⑥②

56. ①同样的饮酒速度，用不含酒精的饮料勾兑过的酒能减慢酒精吸收

②同时它还能促进酒精进入小肠的速度，增加酒精在小肠中的吸收

③碳酸饮料富含二氧化碳气体，能使胃部迅速膨胀，增加胃吸收酒精的面积

④在这个过程中，如能减慢酒精的吸收，就可以延缓醉酒

⑤饮酒后，酒精可以慢慢地经胃壁或小肠吸收进入血液

⑥但使用碳酸饮料进行饮酒的勾兑需要格外当心

将以上 6 个句子重新排列，语序正确的是（ ）。

- A.①④⑥③⑤②
- B.⑤①⑥③④②
- C.①⑥⑤④③②
- D.⑤④①⑥③②

57. 气候变化与社会演化变迁之间的关系并非难以理解。随着气候变化的发生，气温、降水的强度和分布等都会相应地改变。这些变化可能会在某些国家和地区造成饮用水及食物的短缺。变化

发生后，就很可能引起针对饮用水、粮食等生活必须物品的争夺。再者，伴随气候变化出现的洪水、干旱、风暴和热浪等灾害天气，也会给很多地区和国家带来很多不稳定的因子除此之外，为了适应变化的环境所导致的大规模的居民迁移，也会使大范围冲突发生的可能性大大增加。当然，社会演化变迁是个非常复杂的过程，是受多个因子影响的，除了气候变化之外，政治、经济和宗教等都是重要的因子。

这段话主要表达了（ ）。

- A. 社会演化变迁是非常复杂的过程，是与气候变化密切相关的
- B. 气候变化带来的水和食物的短缺是导致大范围冲突的主要原因
- C. 社会演化变迁是受气候变化等多种因素共同作用、影响的结果
- D. 人们对气候变化等多种因素影响社会演化变迁的认识还不足够

58. 现在很多著名企业在用人上都秉持这样的原则：有德有才，破格使用；有德无才，培养使用；有才无德，观察使用；无德无才，坚决不用。因为从某种意义上说，市场经济是一种人格经济，谁具有高尚的人格和道德，能够坚持正确的经营方针，始终为用户着想，以一流的产品和一流的服务为顾客效力，谁就会获得他们的青睐，从而实现良好的经济效益。如果不讲经营道德，采用欺诈手段蒙骗顾客，尽管开始时也能赚到一些钱，但那只能是短暂的，因此，要想把生意做好做大，就必须真正学会“做人”。

这段话主要表达了（ ）。

- A. 企业的用人原则体现了“才”与“德”的辩证关系
- B. 任何不讲诚信的企业是无法在市场立足、发展的
- C. 想在市场经济中长远发展的企业需要道德的约束
- D. 任何企业的长远发展都离不开德才兼备的人才

59. 机关幼儿园所获财政补贴逐年提高，难免令公众质疑，这是不是在维护一种“特权”。相比街道办园、乡镇政府办园、农村集体组织办园等公办幼儿园，机关幼儿园一般优先配置给单位职工子女，而不向社会开放。这种特殊照顾公职人员子女的幼儿园，从本质来说，并非完全的公共产品，而是少数人的“自留地”。拿纳税人的钱为其逐年提高财政补贴，加剧了幼教资源分配不公的状况。

这段文字最恰当的标题是（ ）。

- A. 机关幼儿园的“特权”引发质疑
- B. 纳税人的钱应该怎么花？
- C. 过度补贴机关幼儿园加剧社会不公
- D. 机关幼儿园应该特殊照顾吗？

60. 在 20 世纪 90 年代初，美国著名学者塞缪尔·亨廷顿浏览了加纳和韩国在 20 世纪 60 年代初的经济统计数据，惊讶地发现两国当时人均国民生产总值大致相等，产业结构也十分相近，接受

的经济援助水平也差不多相等。但是 30 年后韩国成为一个经济小巨人，加纳依然落后，它的人均国民生产总值仅相当于韩国的 1/14。为什么两国有这么大的差距？原因有很多种，但是最重要的原因是韩国人珍视节俭、投资、勤奋、教育、组织和纪律，文化是韩国经济实现腾飞的重要推手。

这段文字意在说明（ ）。

- A.加纳和韩国两个国家存在很大的差距
- B.文化是韩国经济繁荣的决定因素
- C.韩国人有着很多优良的文化传统
- D.文化对经济发展具有重要作用

※※※ 第二部分结束，请继续做第三部分！ ※※※

第三部分 数量关系

(共 15 题, 参考时限 15 分钟)

在这部分试题中, 每道题呈现一段表述数字关系的文字, 要求你迅速准确的计算出答案。

请开始答题:

61. 一个慢钟每小时比标准时间慢 5 分钟, 一个快钟每小时比标准时间快 3 分钟。如果将两个钟同时调到标准时间, 在 24 个小时内的某个时间, 慢钟显示 7:50, 快钟显示 9:10。那么此时的标准时间应该是什么? ()
- A.8:20
B.8:30
C.8:40
D.8:50
62. 有 10 个优秀名额, 分别分给 3 个科室, 且科室一至少分 1 个名额, 科室二至少分 2 个名额, 科室三至少分 3 个名额, 问有多少种分配方案? ()
- A.10
B.15
C.20
D.30
63. 有一个项目, 由小刘单独做需要 3 天完成, 由小李单独做需要 15 天完成, 而小刘、小李、小王三个人合作需要 1.5 天完成。问小李和小王两个人合作完成这个项目需要多少天? ()
- A.2
B.3
C.4
D.5
64. 某企业有甲、乙、丙三个部门, 已知三个部门员工的人数比为 4:5:6, 平均年龄是 34 岁, 甲部门员工的平均年龄是 30 岁, 丙部门员工的平均年龄是 20 岁。问乙部门员工的平均年龄是多少岁? ()
- A.45
B.48
C.51
D.54
65. 甲、乙两人进行乒乓球比赛, 比赛采取三局两胜制, 无论哪一方先胜两局则比赛结束。甲每局获胜的概率为 $\frac{2}{3}$, 乙每局获胜的概率为 $\frac{1}{3}$ 。问甲最后取胜的概率是多少? ()
- A. $\frac{20}{27}$
B. $\frac{2}{3}$
C. $\frac{4}{9}$
D. $\frac{8}{27}$

66. 一项工作，甲单独做用的时间比乙单独做少 6 个小时，如果两人合作，则 4 小时可以完成。问乙单独做这项工作需要多少个小时？（ ）
- A.10
B.12
C.14
D.16
67. 一支部队列队行军，速度为 80 米/分钟，传令兵在队尾以 160 米/分钟的速度赶到排头，然后立即返回队尾，共用了 9 分钟。问队列的长度是多少米？（ ）
- A.450
B.540
C.720
D.800
68. 一个长、宽、高分别为 10cm, 6cm, 5cm 的长方体，表面涂满颜料，现在将它切割成边长为 0.5cm 的小立方体，问两个面涂有颜料的小立方体有多少个？（ ）
- A.136
B.144
C.152
D.168
69. A、B、C、D、E 五支足球队进行循环赛，每两个队之间都要比赛一场。已知 A 队赢了 4 场比赛，B 队赢了 1 场比赛，C 队输了 1 场比赛，E 队赢了 2 场比赛。问 D 队赢了几场比赛？（ ）
- A.0
B.1
C.2
D.3
70. 某商场做促销活动，这一天全场商品均打折出售，并且在付款时单件商品每满 100 元再减 20 元。李女士用同样的折扣买了两件商品，一件花了 280 元，另一件花了 340 元，比原价购买节省了 330 元。问这两件商品打几折出售？（ ）
- A.7
B.8
C.8.5
D.9
71. 某市组织歌唱比赛，其中一等奖的奖金是二等奖的 2 倍，二等奖的奖金是三等奖的 1.5 倍，如果一等奖评出 1 人，二等奖评出 2 人，三等奖评出 2 人，那么一等奖的奖金为 3300 元；如果奖金总数不变，一等奖、二等奖和三等奖各评出 2 人，那么一等奖的奖金是多少元？（ ）
- A.2400
B.2500
C.2600
D.2700
72. 对某年级的 45 名同学进行调查，发现他们的特长有书法、钢琴和舞蹈。其中 26 人的特长是书法，18 人的特长是钢琴，21 人的特长是舞蹈，既擅长书法又擅长钢琴的有 7 人，既擅长钢琴又擅长舞蹈的有 8 人，三种都擅长的有 4 人。则只擅长舞蹈的有多少人？（ ）
- A.4
B.5
C.8
D.9
73. 甲、乙、丙、丁四个人要过河，他们单独过河分别需要 3 分钟、5 分钟、8 分钟和 10 分钟。现在只有一艘小船，这个小船最多只能承受两个人的重量。现在四人希望以最短的时间来过河，问最短的时间是多少分钟？（ ）

A.15

B.28

C.39

D.42

74. 两个糖果盒，A 盒放有若干块同样的巧克力，B 盒放有若干块同样的水果糖，两盒糖果的总价格相等。如果从 A 盒中取出 5 块巧克力放入 B 盒，再从 B 盒中取出 6 块水果糖放入 A 盒，则必须在 A 盒中再放 2 块同样的巧克力才能保证两盒糖果的价格相等；如果从 A 盒中取出 8 块巧克力放入 B 盒，再从 B 盒中取出 5 块水果糖放入 A 盒，则 A 盒的总价比 B 盒少 28 元。问每块巧克力多少元？（ ）

A. $\frac{4}{3}$

B.2

C.3

D.4

75. 某旅行团在纪念品商店购买纪念品，纪念品有 30 元和 50 元两种，每人至少买一件，但每人购买的总金额不得超过 150 元。已知旅行团中至少有三名游客购买的两种纪念品数量完全相同，问该旅行团至少有多少人？（ ）

A.25

B.24

C.21

D.20

※※※ 第三部分结束，请继续做第四部分！ ※※※

第四部分 判断推理

(共 35 题, 参考时限 30 分钟)

一、图形推理。请按每道题的答题要求作答。

请开始答题:

76. 从所给的四个选项中, 选择最合适的一个填入问号处, 使之呈现一定的规律性:



A B C D

77. 从所给的四个选项中, 选择最合适的一个填入问号处, 使之呈现一定的规律性:

狄 泡 炮 促 挑 ?

路 挑 跑 跳

A B C D

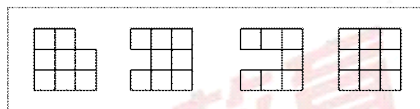
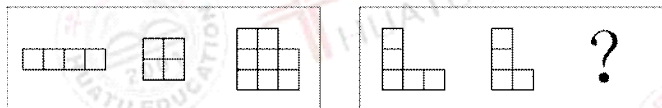
78. 从所给的四个选项中, 选择最合适的一个填入问号处, 使之呈现一定的规律性:

| | | |
|----|-----|---|
| d | mg | ‰ |
| no | yes | △ |
| \$ | □ | ? |



A B C D

79. 从所给的四个选项中, 选择最合适的一个填入问号处, 使之呈现一定的规律性:



A B C D

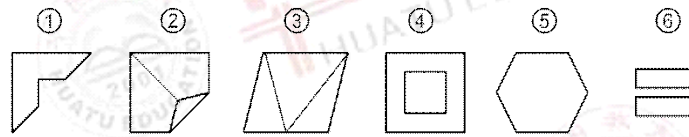
80. 从所给的四个选项中，选择最合适的一个填入问号处，使之呈现一定的规律性：



A B C D

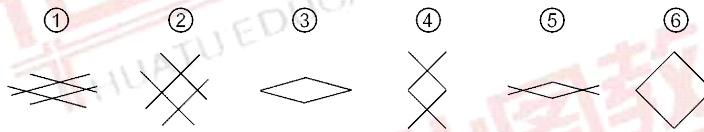
以下 86-90 题，每个题目包含六个图形，请把此六个图形分为两类，使得每一类图形都有各自的共同特征或规律。

81. 把下面的六个图形分为两类，使每一类图形都有各自的共同特征或规律，分类正确的一项是 ()。



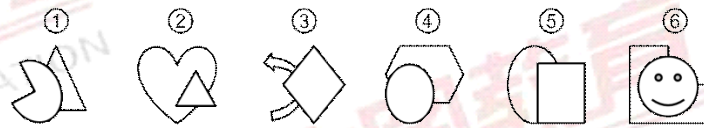
- A. ①②③, ④⑤⑥ B. ①②⑤, ③④⑥
C. ①③④, ②⑤⑥ D. ①③⑤, ②④⑥

82. 把下面的六个图形分为两类，使每一类图形都有各自的共同特征或规律，分类正确的一项是 ()。



- A. ①④⑤, ②③⑥ B. ①③⑥, ②④⑤
C. ①③⑤, ②④⑥ D. ①②⑤, ③④⑥

83. 把下面的六个图形分为两类，使每一类图形都有各自的共同特征或规律，分类正确的一项是 ()。



- A. ①④⑥, ②③⑤ B. ①⑤⑥, ②③④
C. ①②④, ③⑤⑥ D. ①③⑤, ②④⑥

84. 把下面的六个图形分为两类，使每一类图形都有各自的共同特征或规律，分类正确的一项是 ()。



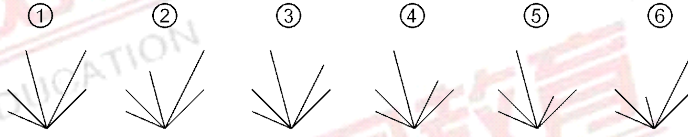
A.①②⑥, ③④⑤

B.①③⑤, ②④⑥

C.①④⑤, ②③⑥

D.①③⑥, ②④⑤

85. 把下面的六个图形分为两类, 使每一类图形都有各自的共同特征或规律, 分类正确的一项是 ()。



A.①②⑥, ③④⑤

B.①②⑤, ③④⑥

C.①③⑤, ②④⑥

D.①③⑥, ②④⑤

二、定义判断

每道题先给出定义, 然后列出四种情况, 要求你严格依据定义, 从中选出一个最符合或最不符合该定义的答案。注意: 假设这个定义是正确的, 不容置疑的。

请开始答题:

86. 犯罪过失, 是指行为人应当预见自己的行为可能发生危害社会的结果, 因为疏忽大意而没有预见, 或者已经预见但轻信能够避免的心理态度。犯罪过失包括疏忽大意的过失和过于自信的过失两种类型。

根据上述定义, 以下属于犯罪过失的是 ()。

A. 宋某在公交车上看到小偷偷东西, 认为被偷者能够发现所以未加阻拦

B. 王某不知道同事李某正在操作机器, 关闭电闸导致李某触电身亡

C. 孙某开车撞伤了路人曹某, 孙某认为曹某伤的不重抱着侥幸心理驾车逃逸

D. 胡某认为自己做假账的功夫高超不会被发现, 但最终还是被相关部门识破

87. 意外事故, 尽管行为人的行为已造成损害结果, 但行为人在主观上既无故意也无过失, 而是出于不能抗拒或者不能预见的原因引起的。

根据上述定义, 以下属于意外事故的是 ()。

A. 小王喝酒后怀有侥幸心理驾车, 结果误闯红灯撞伤路人

B. 李医生经验缺乏, 在手术过程中判断失误, 导致病人失血过多死亡

C. 小张在参加百米赛跑时, 因听不清发令枪响而抢跑, 被取消比赛资格

D. 老赵早晨着急出门忘记锁门, 下午回家后发现家中并无异样

88. 直接故意是指行为人明知自己的行为必然或者可能发生危害社会的结果, 并且希望危害结果的发生; 或明知必然发生危害结果而放任结果发生的心理态度, 即可分为明知可能和明知必然两种情况。

根据上述定义，以下属于直接故意的是（ ）。

- A. 公交车上，李某看到有小偷行窃，但出于自身安全考虑，眼看着小偷偷了他人钱包离开
- B. 解放军战士小张看到有小孩掉进河里，虽然明知道自己救人有危险，还是跳下水救人
- C. 孙某在高速驾驶中看到有一老人正在横穿马路，孙某立即减速，但还是把老人撞成重伤
- D. 刘某与张某一起喝酒，期间张某突发心脏病，而刘某因为醉酒没能及时呼叫救护车，导致张某死亡

89. 品行障碍指 18 岁以下儿童和青少年期反复出现的持久的违反与年龄相适应的社会规范和道德准则侵犯他人或公众利益的一类行为障碍。

根据上述定义，以下属于品行障碍的是（ ）。

- A. 初中生小张有一次数学考试不及格，回家后模仿母亲的签名欺骗老师
- B. 小学生林林智商正常，但读书三年来一直无法流畅的朗读课文
- C. 盗窃犯孙某出狱后依然不思改过，因抢劫再次被判入狱十年
- D. 高一学生李明因为沉迷网络游戏，整个一学期都逃课泡在网吧里

90. 反顺从现象，即少数人在群体压力下坚持自己与众相反的行为或信念的现象。在一般社会生活中，反顺从者通常要冒被群体惩罚或抛弃的危险。

根据上述定义，以下不涉及反顺从现象的是（ ）。

- A. 在地心说盛行之时，哥白尼提出并坚持日心说理论
- B. 辩论赛中双方辩手坚持己见，群强舌战，据理力争
- C. 中国和俄罗斯在联合国就叙利亚问题的决议中投了反对票
- D. 部分家长坚持不把孩子送到学校，而是在家自己进行教育

91. 行政补偿是指国家行政机关及其工作人员在管理国家和社会公共事务的过程中，因合法的行政行为给公民、法人或其他组织的合法权益造成了损失，由国家依法予以经济补偿的制度。

根据上述定义，以下属于行政补偿的是（ ）。

- A. 公务员李某执行公务途中因超速行驶撞伤了路人张某，李某用车的保险费支付了张某的医药费
- B. 某地政府要开发山头建设绿色产业园区，对山上的坟墓进行统一迁移并对每个坟头补偿 600 元
- C. 民警吕某在执行任务时为抓捕罪犯误伤路人张某，事后公安局全体人员通过捐款帮助张某支付医药费
- D. 某村村委会为建设鱼塘向村民征用土地，鱼塘盈利后村委会根据征地面积向村民发放分红

92. 例外原则是泰罗的科学管理的主要原则之一。即企业的高级管理人员把例行的一般事务授权给下级管理人员处理，而自己只保留对例外事项的决策权。

根据上述定义，以下属于例外原则的是（ ）。

- A.某公司报账制度中，所有的花销无论金额大小，都必须报财务和总经理审批
- B.某公司人事制度中，对于普通员工的录用由总经理批准即可，对于高级管理人员的录用，则需要由总经理和各部门主管协商决定
- C.某公司对于日常办公用品的采购由办公室主任负责，对于生产机械的购买则由公司副总经理亲自负责。
- D.某公司设一名总经理，负责公司内一切事物，设两名副总经理，分别负责国内和国外的业务

93. 外部不经济是指某些企业或个人因其它企业和个人的经济活动而受到不利影响，又不能从造成这些影响的企业和个人那里得到补偿的经济现象。

根据上述定义，以下属于外部不经济现象的是（ ）。

- A.江河上游的造纸厂按标准排放污水，造成下游农作物欠、减产
- B.某市要在居民密集区修建变电站，因居民反对最终撤销工程
- C.农民的土地要被征用修建铁路，相关部门给予农民一定的补偿金
- D.某位司机开车发生交通事故，但因为车辆没有保险只能自己负担费用

94. 转移性收入是指国家、单位、社会团体对居民家庭的各种转移支付和居民家庭间的收入转移，而不是作为生产要素提供的劳务的报酬的收入，从而也是不能计入国民收入的收入。

根据上述定义，以下不属于转移性收入的是（ ）。

- A.离婚后前夫给予前妻的赡养费
- B.亲人去世后所继承的遗产
- C.退休后领取的退休金
- D.由于工作业绩突出所取得的奖金

95. 自愿性失业是指工人所要求得到的实际工资超过了其边际生产率，或在现行的工作条件能够就业、但不愿接受此工作条件而未被雇佣所造成的失业。

根据上述定义，以下不属于自愿性失业的是（ ）。

- A.应届毕业生小王想要找一份轻松又高薪的工作，但挑来挑去没有合适的
- B.农民小孙进城务工，但因为自己文化低，没技术，只好继续回家务农
- C.某橡胶厂被兼并，所有工人都要求到外地的新厂工作，部分工人不愿意到外地于是另谋生路
- D.小李在某公司工作了两年，但一直没有得到晋升，小李决定另谋生路试试看

三、类比推理

每道题先给出一组相关的词，要求你在备选答案中找出一组与之在逻辑关系上最为贴近、相似或匹配的词。

请开始答题：

96. 抛弃：孤儿

- A. 检举：犯罪
- C. 治疗：药物

- B. 参观：导游
- D. 表彰：楷模

97. 真实：谎言

- A. 杰出：模范
- C. 贫穷：富翁

- B. 朴素：艳丽
- D. 严厉：宽容

98. 力：运动：静止

- A. 燃料：燃烧：熄灭
- C. 犯罪：刑罚：拘役

- B. 运动：伤病：健康
- D. 封建：落后：挨打

99. 琴键：钢琴：乐器

- A. 陶土：花瓶：饰品
- C. 火星：行星：宇宙

- B. 树干：梧桐：树木
- D. 台历：桌子：家具

100. () 对于水，相当于心脏对于 ()

- A. 火：身体
- C. 泵：血液

- B. 水分子：左心房
- D. 雪：心肌

四、逻辑判断

每题给出一段陈述，这段陈述被假设是正确的，不容置疑的。要求你根据这段陈述，选择一个答案。注意：正确的答案应与所给的陈述相符合，不需要任何附加说明即可以从陈述中直接推出。

请开始答题：

101. 《中华人民共和国民法通则》第一百条规定：公民享有肖像权，未经本人同意，不得以营利为目的使用公民的肖像。也就是说，凡是以营利为目的使用公民的肖像必须取得肖像本人的同意，否则就构成侵权。此外，肖像权人虽然同意使用其肖像作品，但是由于使用人超出了肖像权人许可的适用范围、使用区域、使用时限的也构成了侵权。

由此可以推出 ()。

- A. 如果你以营利为目的使用了公民的肖像，那么就构成了侵权
- B. 只要你不以营利为目的使用公民的肖像，就不会构成侵权
- C. 如果你未经本人同意而使用了公民的肖像，那么就构成了侵权
- D. 即使你经过本人同意而使用了公民的肖像，也可能会构成了侵权

102. 员工对奖酬分配的公平感（或不平感）是影响巨大而又十分敏感的因素。强烈的不平感不仅会使员工士气低落，工作消极，还会造成离心倾向，阻碍长期的组织归属感的养成，进而造成企业内部人际关系恶化，影响员工在工作和生活各方面的情绪和态度，成为不安定因素。

由此可以推出（ ）。

- A. 员工缺乏组织归属感，是因为其它员工工作消极
- B. 员工产生离心倾向，是因为社会资源分配不公正
- C. 员工情绪和态度不良，是因为员工士气低落
- D. 员工人际关系良好，是因为员工有良好的组织归属感

103. 现实生活中，许多成功人士并非是成绩优秀学生。这些人的成绩并不优秀，有些不守规则，拥有某些特长，同时老师对他们的评价普遍不高。但是他们中很多人工作后在他们自己感兴趣的领域获得了事业上的成功。有专家指出，出现这样的情况在于这些人在校期间是迫于老师和家长的压力而学习，并非由于兴趣驱使；而工作后选择了自己感兴趣的职业，因而动力十足，业绩突出。

以下哪项如果为真，最能支持专家的意见？（ ）

- A. 学校考试并不能测出学生真正的智力水平，同时考试成绩也不能涵盖工作中最重要的部分
- B. 在没有外人帮助的情况下，这些学生在感兴趣的学科成绩上要远远优秀于其他不感兴趣的学科成绩
- C. 教师对学生的期望明显对学生的学习动机会产生重要影响。教师的期望越高，学生的动机越强
- D. 一个人在学生时代的特长，对个人今后发展有重要帮助，甚至会在事业发展中会起决定性作用

104. 北京某高校分管校团委工作的李老师在路过“校园文化一条街”时，发现校园街道布置极富创意、海报喷绘数量众多，学生社团活动丰富多彩。因此，她在年终总结中写道：“某大学学生课余生活丰富，社团活动开展得如火如荼。”

以下哪项为真，最能支持李老师的年终总结？（ ）

- A. 丰富多彩的社团活动能够吸引更多的大学生参与其中
- B. 今年入学的大学生，更愿意投入精力到社团活动中去
- C. 社团活动的开展情况是衡量学生课余生活质量的重要指标
- D. 校园里海报和喷绘的数量是衡量大学社团活动开展情况的重要指标

105. 老王终于下决心在市里卖一套房子，一家人有了房子以后，就不用在城市里居无定所并且每月还要支付 1000 余元的房租。这笔房租开销一直以来都是每月固定的家庭支出。老王想买了房子后就能省下这笔房租钱进行一些小的投资了。但老王的妻子确认为即使是买了房子，一段时间内也省不下这笔房租费。

以下哪项如果为真，最能支持老王妻子的想法？（ ）。

- A. 老王是找银行贷款买的房子，每个月还需要偿还一笔不小的的贷款费用
- B. 为了买下房子，老王一家不得不想自己的亲戚借一笔数目较大的钱
- C. 在比较市内众多地产后，老王一次性付款买了一套建在靠近郊区的期房
- D. 老王买的新居离老王和妻子的上班地点都较远，交通成本无形增大

106. 我国互联网的建设已经处于高度发达水平。据 2012 年 1 月，中国互联网络信息中心在京发布《第 29 次中国互联网络发展状况统计报告》显示，截至上个月底，中国网民规模突破 5 亿，达到 5.13 亿，仍保持全球第一大网民数量国家。

以下哪项为真，最能削弱上述观点？（ ）

- A. 我国的互联网普及率只有 37%左右
- B. 网民数量的多少与互联网建设的水平并无直接关联
- C. 我国人均拥有个人电脑数量还与世界发达国家存在差距
- D. 我国不少网民只是利用互联网络进行聊天和观看电影等简单的操作

107. 百慕大三角位于北大西洋的马尾藻海，是由英属百慕大群岛、美属波多黎各及美国佛罗里达州南端所形成的三角区海域，据称经常发生超自然现象及违反物理定律的事件。在这个地区，已有数以百计的船只和飞机无故失事和失踪。不少学者提出黑洞说指出，出现在百慕大三角区中飞机和船只不留痕迹、刹那间消失的失踪事件，颇似宇宙黑洞的现象。

以下哪项为真，最能削弱上述观点？（ ）

- A. 宇宙黑洞对物质的吸积是一个缓慢的过程
- B. 宇宙黑洞的现象并不违反经典的物理学定律
- C. 这些奇特的船只和飞机的失踪现象彼此间并无联系
- D. 黑洞说只能解释某种现象，却无法彻底解开百慕大之谜

108. 根据一项全国范围的调查，近 10 年来全球的新出生婴儿数量大致相同，奶粉行业蕴含巨大的利润。一家奶粉厂对这些新爸爸妈妈进行调查，发现一个“印随现象”，即新爸爸妈妈倾向于沿用自己第一次喂养宝宝的奶粉品牌，仅有 10%的消费者愿意给自己的孩子尝试新的奶粉。而恰好每年奶粉厂商花在广告营运上的经费也在 10%左右。因此该奶粉厂的董事决定不在向市场投放广告，可节约一大笔广告费用。

以下哪项为真，能最有力地地质疑董事的决定？（ ）

- A. 该奶粉厂的广告开支在前，市场调查在后，并没有严格的相关关系
- B. 降低在广告上面的开之后，奶粉的成本价格也不会有太大变化
- C. 董事忽视了一个重要的前提，即奶粉厂下不仅仅只生产一种品牌的奶粉
- D. 奶粉市场是由多加厂商共同竞争的，是众多经济实体的相互博弈

109. 研究发现在刚结婚后的几年中，女性比男性更容易长胖。而对于男性来说，离婚往往导致体重的增加。尤其当人的年龄超过 30 岁后，上述现象更为显著。然而，也有研究发现，长期的婚姻对心脏系统有帮助。已婚的心脏搭桥手术患者的术后 15 年成活率是单身者的 2.5 倍。其中，对婚姻关系满意的患者更容易存活，尤其是幸福的已婚女性。她们术后长时间的存活率是单身女性的 4 倍。

根据上述材料，以下哪项结论无法得到支持（ ）。

- A. 相对于女性，30 岁前结婚的男性在刚结婚后的几年更不容易长胖
- B. 虽然婚姻可能影响身材，但也可能会帮助治愈心脏疾病
- C. 无论男性还是女性，生活满意度高的人更容易远离心脏疾病
- D. 无论男女，婚姻对人的健康既有利也有弊

110. 相比那些同伴关系差的学生，同伴关系好的学生在学校和家庭生活中，更少的出现违纪行为。

由此可见，良好的同伴关系能够减少违纪行为的发生。

以下哪项为真，最能削弱上述结论？（ ）

- A. 经常发生违纪行为的学生一般来说同伴关系较差
- B. 研究发现，良好的家庭教养更能减少学生违纪行为的发生
- C. 同伴关系良好，但同伴数量较少也会影响学生违纪行为的发生
- D. 良好的同伴关系能够促进学生健康人格的形成与发展

※※※ 第四部分结束，请继续做第五部分！ ※※※

第五部分 资料分析

(共 20 题, 参考时限 20 分钟)

所给出的图、表、文字或综合性资料均有若干的问题要你回答。你应根据资料提供的信息进行分析、比较、计算和判断处理。

请开始答题:

一、根据以下文字资料, 回答 111~115 题。

2011 年 1-11 月, 我国东部地区房地产开发投资 31997 亿元, 同比增长 28.5%, 增速同比减缓 9.3 个百分点, 比 1-10 月减缓 0.3 个百分点。11 个省份同比均增长, 增速较快的海南、河北同比分别增长 43.7% 和 36.8%。与去年同期相比, 4 个省份增速加快, 天津、广东分别加快 8.6 和 8.2 个百分点; 7 个省份增速减缓, 福建、上海分别减缓 31.4 和 25.2 个百分点。与 1-10 月相比, 4 个省份增速加快, 福建、山东分别加快 2.1 和 1.5 个百分点; 天津、浙江持平; 5 个省份增速减缓, 北京、河北分别减缓 7.3 和 2.3 个百分点。

2011 年 1-11 月, 我国中部地区房地产开发投资 11754 亿元, 同比增长 29.2%, 增速同比减缓 3.9 个百分点, 比 1-10 月减缓 6.1 个百分点。8 个省份同比均增长, 增速较快的黑龙江、山西分别增长 47.6% 和 34.6%。与去年同期相比, 3 个省份增速加快, 江西、山西分别加快 8.6 和 5.5 个百分点; 5 个省份增速减缓, 安徽、河南分别减缓 10.7 和 7.9 个百分点。与 1-10 月相比, 吉林、湖北增速分别加快 0.8 和 0.1 个百分点; 山西、黑龙江持平; 4 个省份增速减缓, 安徽、湖南分别减缓 5.4 和 3.1 个百分点。

2011 年 1-11 月, 我国西部地区房地产开发投资 11731 亿元, 同比增长 34.9%, 增速同比减缓 1.7 个百分点, 比 1-10 月减缓 2.9 个百分点。12 个省份中, 11 个省份同比增长, 增速较快的贵州、新疆分别增长 63.6% 和 54.7%。与去年同期相比, 5 个省份增速加快, 云南、贵州分别加快 21.8 和 12.2 个百分点; 6 个省份增速减缓, 宁夏、广西分别减缓 26.1 和 24.8 个百分点。与 1-10 月相比, 4 个省份增速加快, 宁夏、新疆分别加快 2 和 0.6 个百分点; 7 个省份增速减缓, 内蒙古、甘肃分别减缓 10 和 6.4 个百分点。西藏投资同比下降 45.6%, 降幅同比缩小 0.3 个百分点, 比 1-10 月缩小 0.1 个百分点。

111. 根据所给材料可以推算, 2011 年 1-11 月份我国中部地区房地产开发投资所占的比例为 ()。

- A. 16.5% B. 21.2%
C. 42.3% D. 57.3%

112. 根据所给材料可以推算, 2011 年 1-11 月, 我国东、中、西部地区中平均每个省(直辖市、自治区)房地产开发投资额最高的地区是 ()。

- A. 东部地区 B. 中部地区
C. 西部地区 D. 无法判断

113. 根据所给文字材料推算, 2011 年 1-11 月, 我国 31 个省(直辖市、自治区)中房地产开发投资同比增速减缓的省(直辖市、自治区)所占的比例为 ()。

- A. 58% B. 61%

C.68%

D.71%

114. 根据所给文字材料推算, 下列指标中绝对值超过 35%的个数为 ()。

- ①2010 年 1-11 月我国西部地区房地产开发投资同比增速
- ②2011 年 1-11 月河北省房地产开发投资同比增速
- ③2011 年 1-11 月西藏藏族自治区房地产开发投资同比增速
- ④2011 年 1-10 月我国中部地区房地产开发投资同比增速

A.1 个

B.2 个

C.3 个

D.4 个

115. 由所给文字材料推知, 下列说法正确的为 ()。

- A.2010 年 1-11 月, 我国 31 个省(直辖市、自治区)中房地产开发投资总额同比增速不足 30%
- B.与 2011 年 1-10 月的同比增幅相比, 2011 年 1-11 月份我国 31 个省(直辖市、自治区)的房地产开发投资中有 18 个同比增速减缓
- C.2011 年 1-11 月份我国 31 个省(直辖市、自治区)中仅有西藏藏族自治区的房地产开发投资额同比下降
- D.以上三项均正确

二、根据以下资料, 回答 116~120 题。

2007-2011 年我国新型农村合作医疗情况

| 指标 | 2007 | 2008 | 2009 | 2010 | 2011 |
|--------------|------|------|-------|-------|------|
| 开展新农合县(区、市)数 | 333 | 678 | 1451 | 2451 | 2729 |
| 参合人口数(亿人) | 0.8 | 1.79 | * | 7.26 | * |
| 参合率(%) | 75.2 | 75.7 | 80.7 | 86.2 | 91.5 |
| 当年筹资总额(亿元) | 40.3 | 75.4 | 213.6 | * | 785 |
| 人均筹资(元) | * | * | 52.1 | 58.9 | 96.3 |
| 当年基金支出(亿元) | 26.4 | 61.8 | 155.8 | 346.6 | 662 |
| 补偿受益人次(亿人次) | 0.76 | 1.22 | 2.72 | 4.53 | 5.85 |

116. 根据所给材料可以推算, 2007-2011 年, 我国新型农村合作医疗参合人数增长最快的是

()。

A.2007 年

B.2009 年

C.2010 年

D.2011 年

117. 根据所给材料可以推算, 2007-2011 年我国新农村合作医疗参合人口基数 ()。

A.一直在增加

B.一直在减少

C.先增加后减少

D.先减少后增加

118. 根据所给材料可以推算, 2007-2011 年我国新型农村合作医疗补偿收益人次数占参合人数比重最大的是 ()。

- A.2007 年
C.2010 年

- B.2009 年
D.2011 年

119. 根据所给材料可以推算, 2007-2011 年我国新型农村合作医疗节余超过 20% 的年份有 ()。

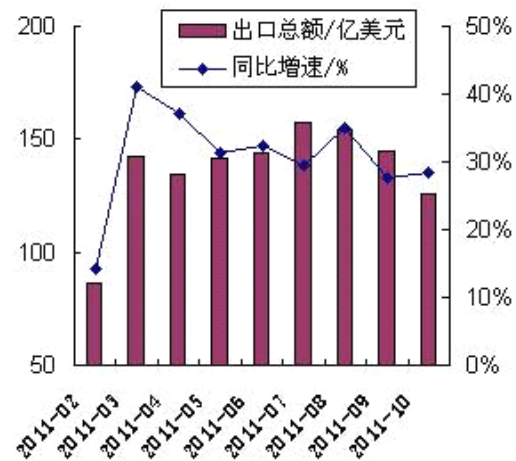
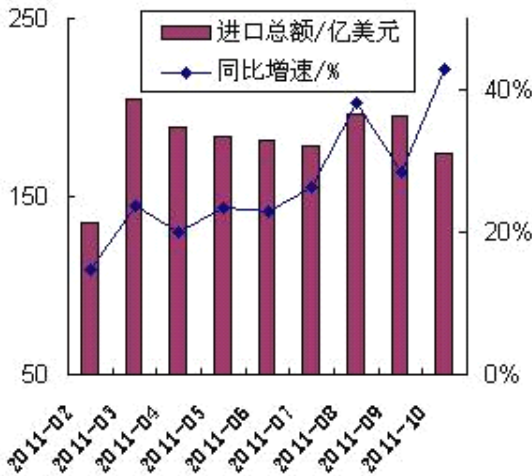
- A.1 个
C.3 个
B.2 个
D.4 个

120. 根据给出的材料, 下列说法一定不正确的是 ()。

- A.从所给数据可以看出 2009 年我国新型农村合作医疗开始全面普及。
B.2007-2011 年我国新型农村合作医疗参合人口数一直在增加。
C.2007-2011 年我国新型农村合作医疗人均筹资额度一直在增加。
D.2007-2011 年我国开展新型农村合作医疗的县(区、市)所占的比例一直在上升。

三、根据以下资料, 回答 121~125 题。

2011 年 1~10 月份, 我国石化行业进出口贸易稳步增长, 进出口总额 3184 亿美元, 同比增长 28.7%; 其中进口 1828 亿美元, 增长 26.7%。10 月份, 行业进出口总额 300 亿美元, 同比增长 36.4%; 其中进口 174 亿美元, 增长 42.9%。



121. 根据所给材料可以推算, 2011 年前三季度我

国石化行业出口额为 ()。

- A.126 亿美元
C.1230 亿美元
B.174 亿美元
D.1356 亿美元

122. 根据所给资料可以推知, 2010 年 10 月, 我国石化行业出口额为 ()。

- A.26 亿美元
C.98 亿美元
B.74 亿美元
D.126 亿美元

123. 根据所给文字和图表材料推算, 2011 年 1-10 月, 我国石化行业出口额同比增长幅度为

- ()。
A.20.4%
B.27.9%

C.28.5%

D.31.4%

124. 根据所给文字和图表材料可以得知，下列指标中超过 30%的个数为（ ）。

①2011 年 1-10 月我国石化行业出口额同比增长幅度

②2011 年 10 月我国石化行业出口额同比增长幅度

③2011 年 9 月我国石化行业进口额同比增长幅度

④2011 年 9 月我国石化行业进出口总额同比增长幅度

A.1 个

B.2 个

C.3 个

D.4 个

125. 由所给文字和图表材料推知，2011 年 3-10 月我国石化行业进口额和出口额环比增幅均为正的月份为（ ）。

A.3 月

B.5 月

C.6 月

D.8 月

四、根据以下资料，回答 126~130 题。

2011 年，某市交通运输业稳定发展。全年铁路、公路、水运共完成客运量 16.6 亿人次，比上年增长 12.8%；周转量达到 1212.8 亿人公里，比上年增长 14.5%。完成货运量 19.6 亿吨，增长 18.7%。

2011 年高速公路通车里程 4033 公里，比上年增加 629 公里。沿海港口货物吞吐量 5.8 亿吨，增长 22.4%。航空客运量 1481.0 万人次，增长 17.9%；货运量 19.9 万吨，增长 17.8%。2011 年民用汽车拥有量 540.3 万辆，增长 11.9%；其中，私人轿车 130.3 万辆，增长 37.4%，占轿车拥有量的 78.8%。

某市 2011 年客货运输量及增长速度

| | 旅 客 | | | | 货 物 | | | |
|----|--------------|-----------|---------------|-----------|-------------|-----------|---------------|-----------|
| | 运输量 (亿人次) | 增长 (%) | 周转量 (亿人公里) | 增长 (%) | 运输量 (亿吨) | 增长 (%) | 周转量 (亿吨公里) | 增长 (%) |
| 公路 | 15.9 | 13.1 | 768.6 | 19 | 16.4 | 19.9 | 1069.3 | 26.5 |
| 铁路 | 0.6 | 7.1 | 436 | 7.1 | 1.8 | 3.9 | 1522.6 | 3.7 |
| 水路 | 0.2 | 7.8 | 8.2 | 23.4 | 1.5 | 25.7 | 4047.8 | 10.9 |

126. 该市 2010 年的旅客运输量和旅客周转量分别为（ ）。

A.14.5 亿人次；1036.9 亿人公里

B.14.5 亿人次；1059.2 亿人公里

C.14.7 亿人次；1036.9 亿人公里

D.14.7 亿人次；1059.2 亿人公里

127. 2011 年民用汽车拥有量比国内轿车拥有量多出（ ）。

A.165.4 万辆

B.249.1 万辆

C.310.0 万辆

D.374.9 万辆

128. 2011 年公路、铁路、水路货物周转量的总值比 2010 年增长（ ）。

A.9.9%

B.11.3%

C.13.1%

D.15.7%

129. 2010 年全年通过地面运输共完成货运量 ()。

A.13.7 亿吨

B.15.1 亿吨

C.16.4 亿吨

D.18.2 亿吨

130. 根据以上资料, 下列说法正确的是 ()。

A.2010 年及 2011 年数据显示旅客和货物运输周转都主要依赖公路运输方式

B.2011 年该市铁路、公路、水运、航空共完成客运量约 16750 万人次

C.2010 高速公路通车里程仅为 2011 年的七成

D.2011 年客货运输量增长速度最快的为水路的旅客运输量

※※※ 全部测验到此结束! ※※※